


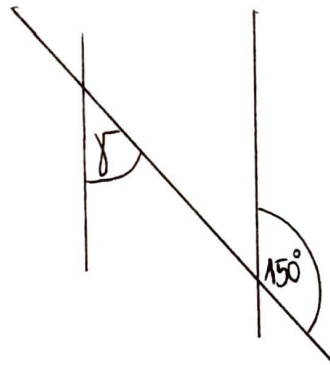
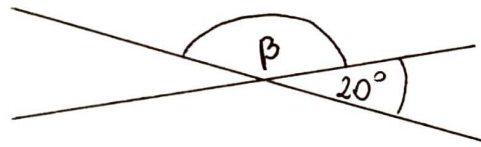
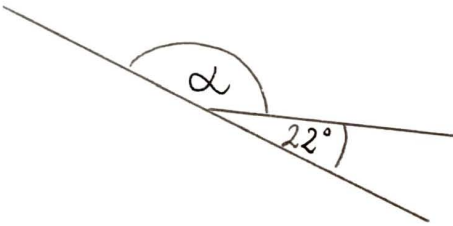
## ZESTAW ZADAŃ 2

1. Używając linijki i ekerki narysuj prostą równoległą do prostej  $k$  przechodzącą przez punkt  $R$ :



2. Narysuj dwa kąty wklęsłe i podaj ich miary:

3. Oblicz miarę kątów  $\alpha$ ,  $\beta$ ,  $\gamma$



4. Oblicz obwód wielokątów:

